


ОЛИМПИАДНАЯ РАБОТА № 7


Задание 1. Расшифруй ребусы, запиши слова.







Задание 2. Найди замочную скважину для ключика, обведи её.



Задание 3. В пятиэтажном доме Вера живёт выше Пети, но ниже Славы, а Коля живёт ниже Пети. На каком этаже живёт Вера, если Коля живёт на втором этаже?

Ответ: _____

[illegible]

Задание 5. 50 рыбок рассадили в 3 аквариума. В первом и втором аквариумах 31 рыбка, во втором и третьем – 28 рыбок. Сколько рыбок в каждом аквариуме?

[illegible]

Задание 6. Каждую минуту от бревна отпиливают метровый кусок. За сколько минут распилят на такие куски бревно длиной 6 метров?

[illegible]

27

[illegible]

Задание 5. 50 рыбок рассадили в 3 аквариума. В первом и втором аквариумах 31 рыбка, во втором и третьем – 28 рыбок. Сколько рыбок в каждом аквариуме?

[illegible]

Задание 6. Каждую минуту от бревна отпиливают метровый кусок. За сколько минут распилят на такие куски бревно длиной 6 метров?

[illegible]

Ответ: _____

Задание 4. В цирке выступали одногорбые и двугорбые верблюды. Как-то клоун Бим посчитал, что горбов у всех верблюдов ровно 7 штук. А клоун Бом посчитал, что ног у всех верблюдов всего 20. Узнай, сколько одногорбых, а сколько двугорбых верблюдов в цирке.

[illegible]

Ответ: _____

Задание 5. 50 рыбок рассадили в 3 аквариума. В первом и втором аквариумах 31 рыбка, во втором и третьем – 28 рыбок. Сколько рыбок в каждом аквариуме?

[illegible]

Ответ: в 1 аквариуме – _____, во 2 аквариуме – _____,
в 3 аквариуме – _____.

Задание 6. Каждую минуту от бревна отпиливают метровый кусок. За сколько минут распилят на такие куски бревно длиной 6 метров?

[illegible]

Ответ: _____

Задание 7. Поставь между некоторыми цифрами знак «+» или «-» так, чтобы получилось верное равенство:

$$1 \quad 2 \quad 3 \quad 4 \quad 5 = 16$$

$$1 \quad 2 \quad 3 \quad 4 \quad 5 = 18$$

$$1 \quad 2 \quad 3 \quad 4 \quad 5 = 24$$

Задание 8. В коридоре детского сада стояли двухколёсные и трёхколёсные велосипеды. Катя посчитала, что колёс – 18, а рулей всего 7. Сколько было двухколёсных велосипедов?

[illegible]

Ответ:


Задание 9. Вставь в пустые клетки квадрата числа 5, 6, 8, 9, 10, 11 так, чтобы квадрат стал «магическим».

	3	
	7	
4		

Задание 10. Реши математический ребус.

 +  +  = 30

$$\text{Orange mug} + \text{Purple mug} + \text{Purple mug} = 20$$



Two green patterned mugs + one purple mug with a flower design = 17

This image shows a full page of blank graph paper. The grid consists of small squares formed by thin, light blue lines. There are approximately 20 columns and 20 rows of squares across the page. The background is white, and there are no markings, text, or drawings on the grid itself.

Ответ: _____